



– 2010

**4 класс**

***Задания, оцениваемые в 2 балла***

1. Дорожные знаки бывают прямоугольной, треугольной и круглой формы. Какая из этих геометрических форм используется для запрещающих знаков?

(А) прямоугольная      (Б) треугольная      (В) круглая

2. Известная художественная галерея в Москве названа Третьяковской

(А) по имени основателя  
(Б) по имени архитектора, построившего здание  
(В) по названию улицы, на которой располагается

3. И льётся чистая и тёплая **лазурь**  
На отдыхающее поле...

*(Ф.И. Тютчев)*

Лазурь – оттенок какого цвета?

(А) синего      (Б) зелёного      (В) жёлтого

4. Волька выловил сосуд с Хоттабычем

(А) в Чёрном море      (Б) в Неве      (В) в Москве-реке

5. Голос мальчишки и женщины тоже,  
И инструмент, так на скрипку похожий, –  
Всё называется, словом одним.  
Ты догадался, конечно, каким?

*(И.Д. Агеева)*

(А) сопрано      (Б) альт      (В) тенор

**Задания, оцениваемые в 3 балла**

6. На дне моря из остатков раковин и скелетов различных организмов образуется со временем плотная порода. Если уровень моря опускается, эти залежи оказываются на поверхности в виде скал.

(А) гранит      (Б) каменный уголь      (В) мел

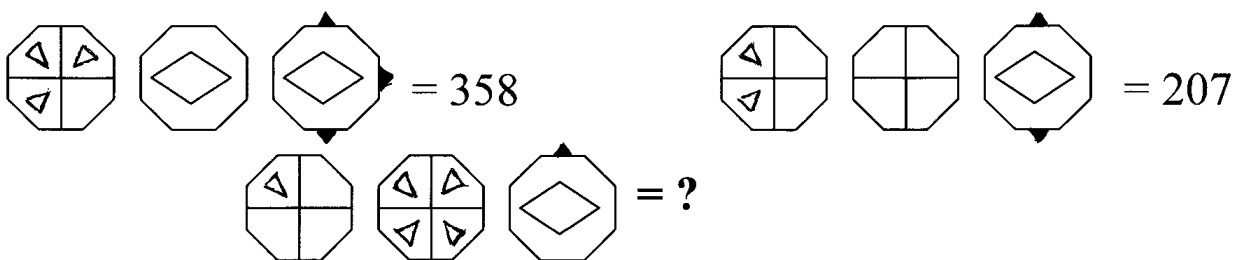
7. Название каждого месяца на Руси отражало его «характер». Какой из представленных месяцев говорит о деятельности людей в это время года, а не о природных явлениях?

(А) протальник      (Б) страдник      (В) хмурень

8. По легенде, своё название этот весенний цветок получил по имени одного самовлюблённого юноши. Однажды, увидев своё отражение в воде, он не смог оторвать от него взгляда. На месте его гибели и вырос этот цветок.

(А) нарцисс      (Б) тюльпан      (В) гладиолус

9. Учёным удалось расшифровать две древние записи. А чему равно третье число?



(А) 146      (Б) 164      (В) 419

10. Как называют в Англии «Золушку»?

(А) Катарина      (Б) Синдерелла      (В) Дороти

## Задания, оцениваемые в 4 балла

4 класс

11. Где служат в России люди, получающие премию «Золотая маска»?

- (А) в больнице      (Б) в спецназе      (В) в театре

12. Гречневую кашу варят из гречихи, овсяную – из овса, а перловую?

- (А) из проса      (Б) из пшеницы      (В) из ячменя

13. Вот дождик брызнул, пыль летит,  
Повисли **перлы** дождевые...

(Ф. Тютчев)

И чистый **перл** на дне морском...

(Ф. Тютчев)

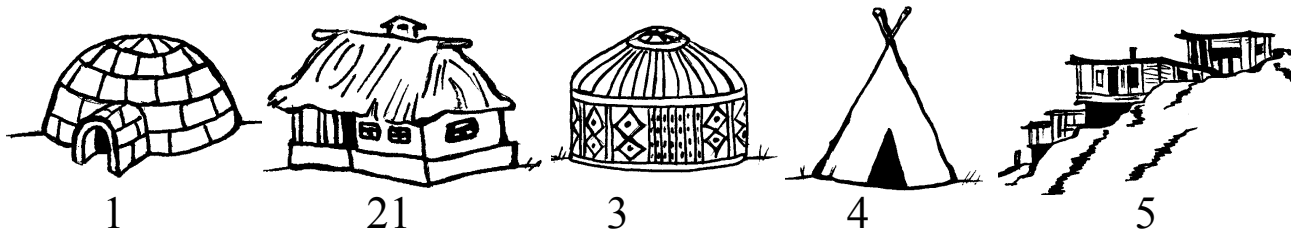
...Он золото, **перлы** и радость сулит...

(В. Жуковский)

Что означает в этих стихах устаревшее слово **перл**? От него, кстати, произошло название перловой крупы.

- (А) жемчуг      (Б) камушек      (В) капля

14. Выбери верные подписи к рисункам



а. юрта; б. вигвам; в. иглу; г. сакля; д. хата.

(А) а5, б1, в4, г3, д2

(Б) а3, б4, в1, г5, д2

(В) а4, б3, в5, г2, д1

15. Малыш может съесть 600 граммов варенья за 6 минут, а Карлсон в два раза быстрее. За какое время они съедят это варенье вместе?

- (А) за 1 минуту    (Б) за 2 минуты    (В) за 3 минуты

**Задания, оцениваемые в 5 баллов**

16. По легенде, одна из императриц Древнего Китая нашла на деревьях в саду гусениц и коконы. Она принесла коконы домой, чтобы лучше рассмотреть. Один из них случайно упал в горячую воду – образовалась тонкая нить. Так впервые были получены

- (А) шёлковые нитки                      (Б) синтетические нитки  
(В) шерстяные нитки


17. То да это, да половина того да этого – сколько это будет процентов от трёх четвертей того да этого?

- (А) 50%            (Б) 150%            (В) 200%

18. Сколько нужно банкнот с изображением Красноярска, чтобы обменять их на одну с изображением Большого театра?

- (А) пять            (Б) десять            (В) сто

19. Исключите лишнее



- (А) 1                      (Б) 2                      (В) 4

20. Который теперь час, если до конца суток осталось четыре пятых того, что уже протекло от начала?

- (А) 9 часов 36 минут                      (Б) 13 часов 20 минут  
(В) 19 часов 12 минут